

第一单元测评卷

建议时间：60分钟

满分：60分

完成时间：

得分：

第一部分(选择题 共24分)

一、选择题(本部分共12道试题,每题2分,计24分。每道题只有一个选项符合题意)

1. 为了缅怀先烈、传承革命精神,我国决定在北京天安门广场建立人民英雄纪念碑。这个决定是在哪次会议上作出的?

()

- A. 中国共产党第一次全国代表大会
- B. 中国共产党第七次全国代表大会
- C. 中国人民政治协商会议第一届全体会议
- D. 遵义会议

2. 在中国人民政治协商会议第一届全体会议上,毛泽东说:“诸位代表先生们,我们有一个共同的感觉,这就是我们的工作将写在人类的历史上。”“我们的工作”包括

()

- A. 通过《中国人民政治协商会议共同纲领》
- B. 颁布《中华人民共和国土地改革法》
- C. 决定抗美援朝
- D. 和平解放西藏

3. 周恩来曾经说过:“新民主主义革命的历史,就是从天安门到天安门。”你认为这两个“天安门”分别与哪一重大历史事件有关?

()

- A. 五四运动 戊戌变法
- B. 五四运动 中华人民共和国成立

C. 五四运动 新文化运动

D. 辛亥革命 新文化运动

4. (2020·呼和浩特中考)1951年西藏和平解放,祖国大陆获得统一。实现西藏和平解放的条件包括 ()

①中央人民政府积极倡导与西藏地方政府和谈 ②西南地区各省实现解放
③人民解放军进驻拉萨 ④西藏宗教领袖班禅拥护党和政府

- A. ①②③
- B. ①②④
- C. ①③④
- D. ②③④

5. (2023·黑龙江中考)2023年是某战争胜利70周年,这场战争是中国人民站起来后屹立于世界东方的宣言书,是中华民族走向伟大复兴的重要里程碑。这场战争是

()

- A. 人民解放战争
- B. 抗日战争
- C. 抗美援朝战争
- D. 北伐战争

6. “一条大河波浪宽,风吹稻花香两岸,我家就在岸上住……”这是一首激荡人心的电影主题曲——《我的祖国》,它是中国人民志愿军战士克服缺粮、缺水、缺氧的严重困难,坚持坑道作战时唱的歌。其背景是下列哪次战役?

()

- A. 渡江战役
- B. 百团大战
- C. 上甘岭战役

D. 辽沈战役

7. 习近平总书记说:“一个有希望的民族不能没有英雄,一个有前途的国家不能没有先锋。”2018年4月27日,全国人民代表大会常务委员会通过《中华人民共和国英雄烈士保护法》。下列人物哪些是抗美援朝时期的英雄? ()

①黄继光 ②董存瑞 ③邱少云

④张自忠

A. ①② B. ②③

C. ①③ D. ②④

8. “雄赳赳,气昂昂,跨过鸭绿江!保和平,卫祖国,就是保家乡……”这首歌一经问世,迅速传遍大江南北。它体现了 ()

A. 中国工农红军争取长征胜利的精神和革命乐观主义精神

B. 抗日军民抵抗侵略的民族团结意识和民族英雄气概

C. 中国人民志愿军高度的爱国主义、革命英雄主义、革命乐观主义、革命忠诚及国际主义精神

D. 中国人民解放军千里跃进大别山的必胜信念和顽强意志

9. (2020·内江中考) 1950—1952年,新中国彻底摧毁了2 000多年的封建土地制度,使农民翻身成为土地的主人。这场变革的法律依据是 ()

A. 《中国人民政治协商会议共同纲领》

B. 《中国土地法大纲》

C. 《中华人民共和国土地改革法》

D. 《中华人民共和国宪法》

10. 2023年6月25日是第33个全国

土地日。土地的使用权是农民权益的最主要体现。新中国成立初期,我国土地改革后在农村实行的是 ()

A. 地主土地所有制

B. 农民土地所有制

C. 耕者有其田

D. 社会主义土地所有制

11. 20世纪50年代初,分到土地的农民们欢天喜地地说:“过去头顶地主的天,脚踏地主的地,现在都成为我们的了”,“分了地,出了气,翻了身,见了天”。材料表明土地改革 ()

①在老解放区开展 ②得到了农民的拥护 ③废除了地主土地所有制 ④使农民获得了解放

A. ①②③

B. ①②④

C. ①③④

D. ②③④

12. 某历史学习小组围绕“西藏和平解放、土地改革、抗美援朝”进行研究性学习。该小组研究的主题应是 ()

A. 彻底实现国家独立

B. 巩固新生政权

C. 进行社会主义改造

D. 探索社会主义道路

第二部分(非选择题 共36分)

二、非选择题(共3道试题,计36分)

13. (10分) 阅读下列材料,回答问题。

材料一 这一天,北京的天气显得格外晴朗,天安门雄伟壮丽……下午3时,随着中央人民政府秘书长林伯渠宣布典礼开始,五星红旗徐徐升起,礼炮齐鸣,全场沸

腾起来。

材料二 我们不出兵让敌人压至鸭绿江边,国内国际反动气焰增高,则对各方都不利……总之,我们认为应当参战,必须参战。参战利益极大,不参战损害极大。

——毛泽东

材料三 新中国成立前,占农村人口不到百分之十的地主、富农占有百分之七十到八十的土地,他们借此残酷地剥削农民,而占农村人口百分之九十的贫农、雇农和中农,却只占百分之二十到三十的土地,他们受尽剥削,不得饱暖。中华人民共和国成立后,人民政府只用几年时间就推翻了这种旧土地制度。

——《近代中国史纲》

(1)材料一反映的是我国哪一重大历史事件?“这一天”指的是哪一天?(2分)

(2)这一天升起的五星红旗是在哪一次会议上被确定为国旗的?该会议还通过了哪部具有临时宪法作用的文件?(2分)

(3)根据材料二,结合所学知识,回答中国参战的目的。中国参战军队的名称是什么?(2分)

(4)材料三中的“旧土地制度”指的是哪一土地制度?这次改革依据的法律文献是什么?(4分)

14. (11 分) 阅读下列材料, 回答问题。

材料一 朝鲜的存亡与中国的安危是密切关联的。唇亡则齿寒, 户破则堂危。中国人民支援朝鲜人民的抗美战争不仅是道义上的责任, 而且和我国全体人民的切身利益密切关联着, 是为自卫的必要性所决定的。

——摘编自《各民主党派联合宣言》

(1) 依据材料一和所学知识, 指出中国人民抗美援朝的理由。(2 分)

材料二 志愿军将士冒着枪林弹雨勇敢冲锋, 顶着狂轰滥炸坚守阵地, 用胸膛堵枪眼, 以身躯作人梯, 抱起炸药包、手握爆破筒冲入敌群, 忍饥受冻绝不退缩, 烈火烧身岿然不动, 敢于“空中拼刺刀”。

——习近平在纪念中国人民志愿军抗美援朝出国作战 70 周年大会上的讲话

(2) 写出材料中所提到“用胸膛堵枪眼”“烈火烧身岿然不动”的英雄人物的名字。(4 分)

(3) 中国人民志愿军战士身上有哪些优秀精神品质值得我们学习?(3 分)

材料三 抗美援朝战争伟大胜利, 将永远铭刻在中华民族的史册上! 永远铭刻在人类和平、发展、进步的史册上!

——习近平在纪念中国人民志愿军抗美援朝出国作战 70 周年大会上的讲话

(4) 请结合材料三及所学知识, 指出抗美援朝的现实价值。(2 分)

15. (15 分) 阅读下列材料, 回答问题。

材料一 我们的工作将写在人类的历史上, 它将表明: 占人类总数四分之一的中国人从此站立起来了。

——《毛泽东文集》

材料二 它雄辩地证明: 西方侵略者几百年来只要在东方一个海岸上架起几尊大炮就可霸占一个国家的时代是一去不复返了。

——彭德怀

材料三 很短的时间内,将有几万万农民从中国中部、南部和北部各省起来,其势如暴风骤雨,迅猛异常,无论什么大的力量都将压抑不住。

——毛泽东

(1)材料一中毛泽东所说的“中国人从此站立起来了”的标志是什么?他这样说的理由是什么?(5分)

(2)与材料二有关的历史事件是什么?请你结合中国近现代历史的相关知识和对彭德怀这句话的理解,分析这一历史事件胜利的伟大意义。(5分)

(3)材料三中提到的国家在农村推行的一项“势如暴风骤雨”的改革有什么意义?(3分)

(4)结合所学知识,给材料一、二、三反映的事件拟一个主题。(2分)

第二单元测评卷

建议时间：60分钟

满分：60分

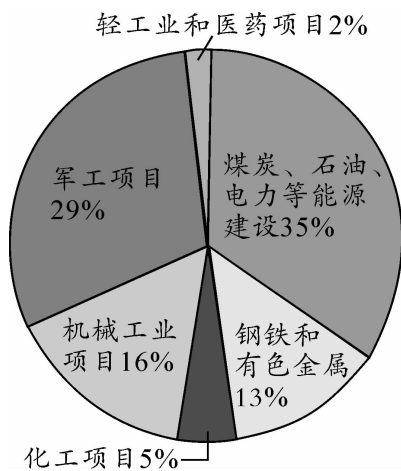
完成时间：

得分：

第一部分(选择题 共24分)

一、选择题(本部分共12道试题,每题2分,计24分。每道题只有一个选项符合题意)

1. 下图是“一五”计划期间,我国实施的156项重点工程项目比例分布示意图。这表明当时我国 ()



- A. 工业项目均衡发展
- B. 集中主要力量发展重工业
- C. 建立了完整的工业体系
- D. 完成了向工业化的转变

2. (2020·凉山中考)我国开始改变工业落后的面貌,向社会主义工业化迈进的事件是 ()

- A. 经济特区的建立
- B. 人民公社化运动兴起
- C. 中共十一届三中全会召开
- D. 第一个五年计划完成

3. 1954年9月15日,在中南海怀仁堂,工业战线的劳模王崇伦、农业战线的劳

模李顺达、年龄最大的代表齐白石老人、年龄最小的代表青年女工郝建秀等汇聚一堂。他们要完成的一项任务是 ()

- A. 筹建新中国
- B. 审议“一五”计划
- C. 讨论通过新中国第一部宪法
- D. 建立人民公社

4. 1954年,第一届全国人民代表大会确立我国的根本政治制度是 ()

- A. 民族区域自治制度
- B. 依法治国
- C. 人民代表大会制度
- D. 五年计划制度

5. 新中国成立初期,分散、落后的小农经济束缚着农村生产力的发展,难以满足国家经济建设的需要。对此,国家采取的相应措施是 ()

- A. 和平解放西藏
- B. 进行土地改革
- C. 建立农业生产合作社
- D. 开展人民公社化运动

6. 西安市某地有一社区叫作“豆腐社”,当地老人说这是因当年按国家政策,将从事豆腐制作加工的手工业者组织在一起,建立了“豆腐生产合作社”而得名。“豆腐生产合作社”这一名称最早可能出现在 ()

- A. 土地改革时期

- B. 三大改造时期
C. 人民公社化运动时期
D. 抗美援朝时期

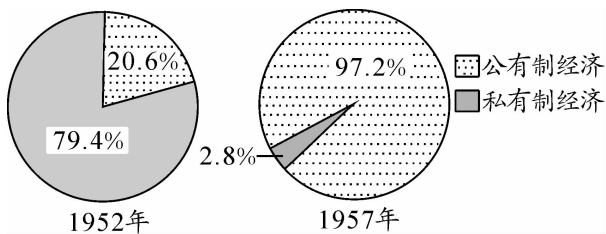
7. “恒源祥”创始人沈莱舟曾对子女说：“现在我把厂都交给了国家，由国家去经营管理，我坐在家不用花一点心思收股息，这又有什么不好？”这反映的是

()

- A. 土地改革运动
B. 全行业公私合营
C. 手工业合作化
D. 人民公社化运动

8. 下图反映了我国公有制、私有制经济成分比重的变化。导致这一变化的是

()



公有制经济和私有制经济
在国民经济中的比重

- A. 进行土地改革
B. 实行三大改造
C. 开展人民公社化运动
D. 召开中共八大

9. 中国是伟大的社会主义国家。社会主义基本制度在我国建立起来的标志是

()

- A. 1949 年中华人民共和国成立
B. 1952 年土地改革完成
C. 1954 年第一届全国人民代表大会
召开

D. 1956 年底三大改造完成

10. “我们都是搞革命的，搞革命的人最容易犯急性病。我们的用心是好的，想早一点进入共产主义。这往往使我们不能冷静地分析主客观方面的情况，从而违反客观世界发展的规律。”邓小平的这段话总结的是

()

- A. “大跃进”和人民公社化运动的教训
B. 对资本主义工商业改造实行赎买政策的影响
C. 闭关自守导致国家落后
D. 土地改革消灭了地主阶级

11. 中共中央提出“调整、巩固、充实、提高”八字方针是为了

()

- A. 恢复新中国成立初期遭到破坏的经济
B. 开展实施第一个五年计划
C. 缓和“文化大革命”造成的社会混乱
D. 应对三年严重的经济困难

12. 习近平称赞他“路漫漫其修远矣，两袖清风来去。为官一任，造福一方，遂了平生意”。兰考人民评价他“心里装着全县的干部群众，唯独没有他自己”。材料中的“他”是

()



A. 焦裕禄



B. 王进喜



C. 雷锋



D. 邓稼先

第二部分(非选择题 共 36 分)

二、非选择题(共 3 道试题,计 36 分)

13. (10 分)饱经风霜的新中国已经走过了几十个春秋,回首几十年来共和国不平凡的复兴之路,引起我们深深的思考。

【一穷二白】

材料一 (新中国成立初期)我国的工业基础,特别是重工业基础非常薄弱……这种落后的经济状况只能靠优先发展重工业才能改变。

(1)材料一反映了新中国成立初期我国怎样的经济状况? 根据材料一分析,改变当时经济状况的途径是什么? 为此,我国政府编制了什么计划? (3 分)

【神奇逆转】

材料二 我国主要工农业产品产量表

年份	项目	粮	棉	钢	煤
1952 年	总产量	1.64 亿吨	130.4 万吨	135 万吨	0.66 亿吨
	比 1949 年增长	36%	193%	754%	105%
1957 年	总产量	1.95 亿吨	164 万吨	535 万吨	1.3 亿吨
	比 1952 年增长	19%	26%	296%	97%

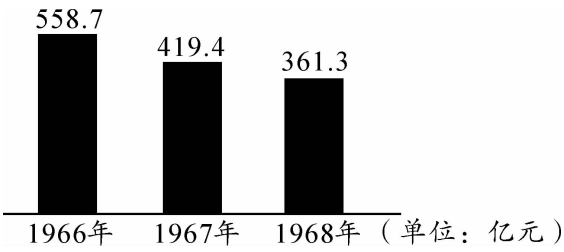
(2)依据材料并结合所学知识,分析 1957 年我国主要工农业产品产量比 1952 年增长的原因。(2 分)

【重大挫折】

材料三



图一 1958 年《人民日报》



图二 1966—1968 年的国民经济状况(部分)

(3)结合相关史实,判断图一中的报道是否真实,请说明理由。分析指出图二中经济状况出现的主要原因。(3 分)

(4)从上述曲折的经济发展历程中,可以得出哪些教训?(2分)

续表

“_____” (1966—1976年)	全国出现了学校停课、工厂停产“闹革命”的动乱局面
改革开放和社会主义现代化建设新时期 (1978年以后)	中国历史进入改革开放和社会主义现代化建设新时期

任务二 【解决问题】

(2)在任务一表格中的十年探索时期(1956—1966年),我国在探索建设社会主义道路的过程中出现了一些失误。结合材料及所学知识,分析出现失误的原因。(3分)

14. (11分)新中国成立后,党和国家采取积极措施巩固新政权。到20世纪50年代中期,又完成了社会主义改造。此后,在探索社会主义建设的道路上虽然出现过一定的失误,但最终走上了建设中国特色社会主义道路,社会主义现代化建设取得了举世瞩目的成就。

任务一 【整理线索】

(1)完成下列表格。(6分)

过渡时期 (1949—1956年)	完成对农业、手工业和_____的社会主义改造,初步建立起社会主义基本制度
十年探索时期 (1956—1966年)	_____分析了当时国内的主要矛盾,成为党在探索社会主义建设道路过程中取得的重要成果

任务三 【思考感悟】

(3)实现中华民族伟大复兴的中国梦是每个中国人的梦。作为新时代的中学生,你能做些什么?(2分)

15. (15 分) 阅读下列材料, 回答问题。

材料一 现在我们能造什么? 能造桌子椅子, 能造茶碗茶壶, 能种粮食, 还能磨成面粉, 还能造纸, 但是, 一辆汽车、一架飞机、一辆坦克、一辆拖拉机都不能造。

——毛泽东

(1) 材料一反映了当时中国的什么状况? (2 分)

材料二 我们进行社会主义革命所用的方法是和平的方法。对于这种方法, 过去在共产党内和共产党外, 都有许多人表示怀疑。但是去年夏季以来, 由于农村合作化运动的高潮和最近几个月以来城市中社会主义改造的高潮, 他们的疑问已经大体解决了。

——毛泽东《社会主义革命的目的

是解放生产力》(1956 年 1 月 25 日)

材料三 对于我, 失去的是我个人的一些剥削所得, 它比起国家第一个五年计划的投资总额是多么渺小, 得到的却是一个人人富裕、繁荣强盛的社会主义国家。

——荣毅仁接受新华社记者采访时的谈话 (1956 年 1 月)

(2) 我国对农业、手工业和资本主义工商业改造所用的方法分别是什么? (4 分)

(3) 材料三反映了荣毅仁对社会主义改造的什么态度? 他失去了“个人的一些剥削所得”后, 其身份发生了怎样的变化?

(2 分)

(4) 三大改造基本完成于哪一年? 三大改造虽然取得了重大胜利,但在改造工作的后期,也存在一些问题。这些问题是什么?(3分)

材料四 那件事(指“文化大革命”)看起来是坏事,但归根到底也是好事,促使我们思考,促使我们认识我们的弊端在哪里。毛主席经常讲坏事转化为好事。善于总结“文化大革命”的经验,提出一些改革措施,从政治上、经济上改变我们的面貌,这样坏事就变成了好事。

——《邓小平文选》

(5) 材料四中的“好事”“坏事”分别指什么? 我们该从“文化大革命”吸取怎样的教训?(至少写出两点)(4分)

第三单元测评卷

建议时间：60分钟

满分：60分

完成时间：

得分：

第一部分(选择题 共24分)

一、选择题(本部分共12道试题,每题2分,计24分。每道题只有一个选项符合题意)

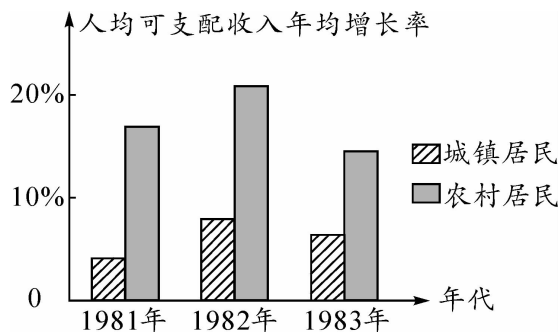
1. 1978年12月,邓小平在中央工作会议上说:“一个党,一个国家,一个民族,如果一切从本本出发,思想僵化,迷信盛行,那它就不能前进,它的生机就停止了,就要亡党亡国。”邓小平此语总结的是 ()

- A. 第一个五年计划
- B. 家庭联产承包责任制的推行
- C. 深圳等经济特区的建立
- D. 真理标准问题的大讨论

2. (2020·宜昌中考)辛亥革命、中华人民共和国成立与社会主义制度建立、改革开放一起被称为20世纪中国的三大历史性巨变。开启改革开放这一历史巨变的重大事件是 ()

- A. 开国大典
- B. 人民代表大会制度的确立
- C. 中共十一届三中全会
- D. 中共十二大

3. 观察下图,形成图中所示现象的原因是 ()



- A. “一五”计划的实施
- B. 三大改造的完成
- C. 农村改革的成功
- D. 经济特区的建立

4. 邓小平在“南方谈话”中提出:“没有一点闯的精神,没有一点‘冒’的精神,没有一股气呀、劲呀,就走不出一条好路。”“南方谈话”后,中共十四大明确的改革目标是 ()

- A. 决定以经济建设为中心
- B. 提出改革开放的总方针
- C. 开始社会主义现代化建设
- D. 建立社会主义市场经济体制

5. 2019年3月15日,十三届全国人大二次会议表决通过了《中华人民共和国外商投资法》,这标志着我国对外开放迈出了新的一步。下列关于我国对外开放相关史实的描述,正确的是 ()

- A. 设置广州为经济特区
- B. 设立厦门为沿海城市
- C. 海南被划定为经济特区
- D. 开发上海浦东为沿海城市

6. 1984年,我国将上海设为沿海城市;1990年,开发开放上海浦东;1992年,设置上海浦东新区;2013年,又设立上海自贸区。据此可知,上海 ()

- A. 成为我国最早对外开放的试验田
- B. 对外开放不断扩大和深入
- C. 成为珠江三角洲经济发展的龙头

D. 发展成为我国新的经济特区

7. 邓小平理论是改革开放的指导思想。将邓小平理论确定为党的指导思想的重大历史性会议是 ()

- A. 中共十三大
- B. 中共十四大
- C. 中共十五大
- D. 中共十六大

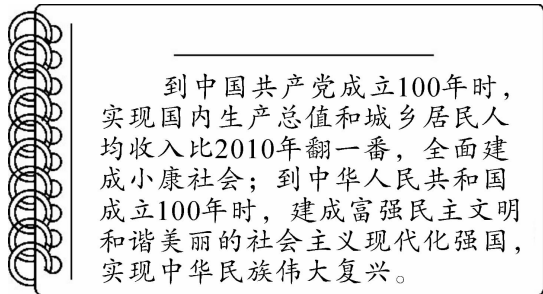
8. 在中共十六大上,被确立为中国共产党的指导思想的是 ()

- A. 毛泽东思想
- B. “三个代表”重要思想
- C. 邓小平理论
- D. 习近平新时代中国特色社会主义思想

9. 中共十九大的主题是:不忘初心,_____,高举中国特色社会主义伟大旗帜,决胜全面建成小康社会,夺取新时代中国特色社会主义伟大胜利,为实现中华民族伟大复兴的中国梦不懈奋斗。 ()

- A. 继续前进
- B. 牢记使命
- C. 方得始终
- D. 砥砺前行

10. 下图笔记的主题是 ()



- A. “三个代表”重要思想
- B. 科学发展观
- C. “两个一百年”奋斗目标
- D. “四个全面”战略布局

11. (2023·淮安中考)某公众号向小明同学推送的文章包含以下关键词:中国梦、“四个全面”战略布局、新发展理念。该文章便于他学习 ()

- A. 邓小平理论
- B. “三个代表”重要思想
- C. 科学发展观
- D. 习近平新时代中国特色社会主义思想

12. (2023·陇南中考)这次大会对全面建设社会主义现代化国家、全面推进中华民族伟大复兴进行了战略谋划,为新时代新征程党和国家事业发展、实现第二个百年奋斗目标指明了前进方向、确立了行动指南。这次大会是 ()

- A. 中共十一届三中全会
- B. 中共十九大
- C. 中共十九届六中全会
- D. 中共二十大

第二部分(非选择题 共36分)

二、非选择题(共3道试题,计36分)

13. (10分)实现中华民族伟大复兴是所有中国人不断追求的梦想。阅读下列材料,回答问题。

材料一 实现中国梦必须走中国道路。……这条道路来之不易,它是在改革开放30多年的伟大实践中走出来的,是在中华人民共和国成立60多年的持续探索中走出来的……

——摘自习近平《在第十二届全国人民代表大会第一次会议上的讲话》

材料二 构建社会主义和谐社会是贯穿中国特色社会主义事业全过程的长期历

史任务……要通过发展增加社会物质财富、不断改善人民生活,又要通过发展保障社会公平正义、不断促进社会和谐。

——中共十七大报告

材料三 2012年11月,习近平在参观《复兴之路》展览时提出:“实现中华民族伟大复兴,就是中华民族近代以来最伟大的梦想。”2013年,习近平在十二届全国人大一次会议上当选为国家主席。在会上,他深刻阐述了中国梦的宏伟蓝图。

——摘自《义务教育教科书 中国历史
八年级 下册》

(1)材料一中的“中国道路”具体是指什么道路?其开创者是谁?(2分)

(2)材料二集中体现了马克思主义理论在中国发展的哪一重要成果?当前,马克思主义中国化最新成果是什么?(2分)

(3)依据材料三结合所学知识,指出“中国梦”的基本内涵。为实现中国梦,中国共产党提出的“两个一百年”奋斗目标分别指什么?(6分)

14. (2023·营口中考改编)(11分)习近平总书记中共二十大报告中指出:“中国共产党已走过百年奋斗历程。我们党立志于中华民族千秋伟业,致力于人类和平与发展崇高事业,责任无比重大,使命无上光荣。”阅读材料,回答问题。

材料一



图一 中共一大会址



图二 中共七大会场

(1)材料一中,图一中共一大是在哪座城市召开的?中共一大确定的党的奋斗目标是什么?图二中共七大确立的中国共产党的指导思想是什么?(3分)

材料二 解放思想,开动脑筋,实事求是,团结一致向前看,首先是解放思想。只有思想解放了,我们才能正确地以马列主义、毛泽东思想为指导……确定实现四个现代化的具体道路、方针、方法和措施。

——摘自《义务教育教科书 中国历史
八年级 下册》

(2)根据材料二及所学知识回答,“解放思想,开动脑筋,实事求是,团结一致向前看”是哪次会议确定的指导方针?(2分)

材料三 我国的对外开放从沿海的经济特区开始,逐步向内地推进,形成了全方位、多层次、宽领域的对外开放格局。实行对外开放,是党根据工作重点转移需要而制定的重大战略,并进而被确立为一项基本国策。

——摘编自《义务教育教科书 中国历史
八年级 下册》

(3)根据材料三及所学知识,我国对外开放的“窗口”是哪座城市?“形成了全方位、多层次、宽领域的对外开放格局”是什么?“党根据工作重点转移需要而制定的重大战略”是什么?(4分)

(4)结合上述材料,重温百年党史,作为一名新时代的中学生,谈谈应如何做到热爱党、拥护党。(2分)

15. (15分)阅读下列材料,回答问题。

材料一 1978年,安徽省遇到百年不遇的大旱。为了吃饱饭,安徽凤阳县小岗村18户农民私下立了一份将田地包干到户的契约。

材料二



改革开放前的深圳

现在的深圳

材料三 他和同事们找到了一条强国富民的道路。在达成这个目标的过程中,邓小平也引领了中国的根本转型,不论在它与世界的关系方面,还是它本身的治理结构和社会。在邓小平领导下出现的这种结构性转变,确实可以称为自两千多年前汉帝国形成以来,中国最根本的变化。

——傅高义《邓小平时代》

(1) 根据材料一判断, 该事件后来促成了中央政府哪项有关农村的改革措施? 说说它给中国带来的变化。(4 分)

(2) 分析材料二回答, 深圳发生了怎样的变化? 发生如此巨大变化的主要原因是什么?(4 分)

(3) 结合所学知识, 写出材料三中“强国富民”道路的名称, 并回答“邓小平引领的中国经济的根本转型”指的是什么。(4 分)

(4) 通过上述材料, 你得出什么认识?(3 分)

第四单元测评卷

建议时间：60分钟

满分：60分

完成时间：

得分：

第一部分(选择题 共24分)

一、选择题(本部分共12道试题,每题2分,计24分。每道题只有一个选项符合题意)

1.《中华人民共和国宪法》规定:“各少数民族自治地方都是中华人民共和国不可分离的部分。”我国在各少数民族聚居的地方实行的基本政治制度是 ()

- A. 民族平等
- B. 民族团结
- C. 各民族共同繁荣
- D. 民族区域自治制度

2.1954年《中华人民共和国宪法》规定:“各少数民族聚居的地方实行区域自治。”下列属于自治区的是 ()

- A. 广西
- B. 香港
- C. 甘肃
- D. 福建

3.1997年7月1日,1999年12月20日,中国政府先后对香港、澳门恢复行使主权,洗雪了百年国耻。在此之前,侵占香港、澳门的国家分别是 ()

- A. 英国、西班牙
- B. 西班牙、葡萄牙
- C. 英国、葡萄牙
- D. 英国、法国

4.2024年是澳门回归祖国25周年。澳门回归祖国主要得益于 ()

- A. 城市经济体制改革的推进
- B. 经济特区的设立
- C. 家庭联产承包责任制的实行
- D. “一国两制”构想的实施

5.“紫荆怒放雪百年耻辱,白莲盛开还万众尊严。”香港、澳门回归祖国,标志着中国人民洗雪了百年国耻。香港、澳门回归祖国后,成为中国的 ()

- A. 经济特区
- B. 特别行政区
- C. 民族自治区
- D. 直辖市

6.祖国统一是历史发展的必然趋势。香港与澳门的顺利回归并长期保持繁荣稳定,它们向世界展示了 ()

- A. 人民代表大会制度的优越性
- B. 民族区域自治制度的正确性
- C. 独立自主和平外交政策的成功
- D. “一国两制”构想的伟大生命力

7.(2020·青海中考)香港和澳门回归祖国是中国政府解决历史遗留问题的成功范例,这一历史遗留问题能够成功解决的根本原因是 ()

- A. “九二共识”
- B. 独立自主的和平外交政策
- C. 中美关系正常化

D. 中国国际地位的提高和综合国力的增强

8. 《反分裂国家法》规定：“国家和平统一后，台湾可以实行不同于大陆的制度，高度自治。”这段内容表明党和政府的对台基本方针是 ()

- A. “和平统一、一国两制”
- B. 民族区域自治制度
- C. “求同存异”的方针
- D. “九二共识”

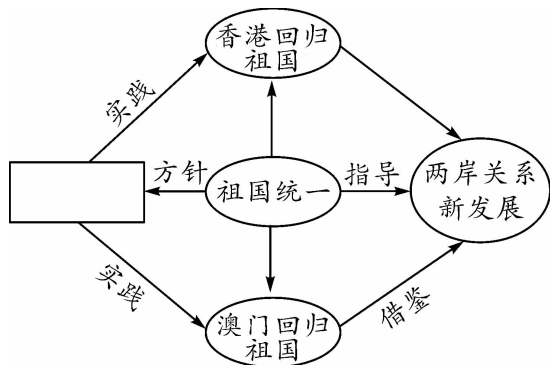
9. 1987年2月，部分台湾同胞发起返乡运动……当年的母亲节，一些老兵穿着“想家”的T恤衫，在集会上演唱《母亲您在何方？》，老兵们哭成一片。这反映了 ()

- A. 台湾同胞期盼台湾当局放开赴大陆探亲的限制
- B. “九二共识”得到台湾同胞普遍认同
- C. 海峡两岸已经达成“一个中国”的共识
- D. 港澳回归祖国奠定海峡两岸民间交流的基础

10. (2023·绥化中考改编)1992年，海协会和海基会达成“海峡两岸同属一个中国，共同努力谋求国家统一”的共识，后被称为 ()

- A. “一国两制”的构想
- B. “九二共识”
- C. 发展两岸关系、推进祖国和平统一的八项主张
- D. “三通”协议

11. 赵老师在讲授“祖国统一”这一专题时，设计了如下思维导图。其中，方框中的内容应是 ()



- A. “一国两制”的构想
- B. 国共合作
- C. 和平共处
- D. 统一战线

12. 下列史实反映的共同主题是 ()

1992年，海协会和海基会达成“九二共识”
 1997年7月1日，中国对香港恢复行使主权
 1999年12月20日，中国对澳门恢复行使主权

- A. 祖国统一
- B. 外交成就
- C. 军队建设
- D. 民族团结

第二部分(非选择题 共36分)

二、非选择题(共3道试题,计36分)

13. (10分)阅读下列材料,回答问题。

材料一 各少数民族聚居的地区,应实行民族区域自治,按照民族聚居的人口多少和区域大小,分别建立各种民族自治机关。凡各民族杂居的地方及民族自治区

内,各民族在当地政权机关中均应有相当名额的代表。

——《中国人民政治协商会议共同纲领》

(1)根据材料一,概括民族区域自治制度的含义。(2分)

材料二 1984年2月,邓小平明确指出,祖国统一后,“台湾仍搞它的资本主义,大陆搞社会主义,但是一个统一的中国,一个中国,两种制度。香港问题也是这样,一个中国,两种制度”。

材料三 主权问题不是可以讨论的问题,1997年中国将收回香港,收回的不仅是新界,而且包括香港岛和九龙。

——1982年邓小平会见英国首相撒切尔夫人的谈话

(2)材料二、三中提到的香港是被哪个国家侵占的?谈谈你对香港回归祖国的感想。(6分)

(3)根据材料结合所学知识,谈谈目前我国解决台湾问题的有利因素。(2分)

14. (11分)中国自古以来就是一个统一的多民族国家,维护民族团结、实现祖国的完全统一是全中国人民的神圣职责。阅读下列材料,回答问题。

材料一



材料二 20世纪80年代初,大陆的统一观已经有了创新性的发展,不完全要求绝对的“政治上的服从”和“制度上的一致”,首创了一个国家中允许存在不同社会制度的理论。

——摘编自《国家统一是中华民族历史形成的国家观》

材料三 2020年1月15日,国台办发言人表示,新的一年大陆将继续在“九二共识”的框架内,推动海峡两岸各领域交流合作,为台湾同胞办实事、做好事、解难事,从而增进两岸同胞亲情福祉。

——新浪新闻

材料四 对两岸关系和平发展的最大现实威胁是“台独”势力及其分裂活动。……中共二十大进一步强调,“和平统一、一国两制”方针是实现两岸统一的最佳方式,对两岸同胞和中华民族最有利。

——摘自《义务教育教科书 中国历史
八年级 下册》

(1)材料一是为纪念广西壮族自治区成立 50 周年而发行的邮票。该邮票反映的是我国在少数民族聚居的地方实行的哪项基本政治制度?这一制度的实行有什么意义?(4 分)

(2)材料二中“首创了一个国家中允许存在不同社会制度的理论”是指什么伟大构想?这一构想首先在哪个地区被成功实践?(2 分)

(3)结合所学知识,说一说“九二共识”的内容。(1 分)

(4)根据材料四并结合所学知识指出,影响两岸统一的有利因素和不利因素分别是什么?(4 分)

15. (15 分)某历史兴趣小组开展了关于“民族团结与祖国统一”的探究活动,请你一起参加,回答相关问题。

【歌词赏析】

材料一 “五十六个星座五十六枝花,五十六族兄弟姐妹是一家,五十六种语言汇成一句话,爱我中华爱我中华爱我中华……”

——歌曲《爱我中华》

(1)品读歌词,说一说我国当前已经建立了怎样的社会主义民族关系。(2 分)

材料二 “你可知‘MACAU’,不是我真姓,我离开你太久了,母亲,但是他们掳去的是我的肉体,你依然保管着我内心的灵魂……三百年来梦寐不忘的生母啊!请叫儿的乳名……母亲!”

——《义务教育教科书 中国历史
八年级 下册》

(2)中国古代史上,哪个国家侵占了澳门?香港、澳门最终能够顺利回归祖国最主要的原因是什么?(2分)

【政策感悟】

材料三



图一



图二

(3)结合所学知识指出,图一和图二分别反映的是什么政治制度和构想?二者所反映的区域其相同点和最根本的不同点是什么?(6分)

材料四 2024年是《中华人民共和国民族区域自治法》颁布实施40周年。《中华人民共和国民族区域自治法》规定:“我国民族自治地方的人民代表大会有权依照当地民族的政治、经济和文化的特点,制定自治条例和单行条例。”《中华人民共和国选举法》规定:“有少数民族聚居的地方,每一聚居的少数民族都应有代表参加当地的人民代表大会。”实施西部大开发战略以来,全国各省市进一步加强了干部援藏、援疆和支边的力度,不仅帮助民族地区发展了经济,也由此建立了亲密的联系和深厚的感情。

(4)上述材料内容是如何体现我国的民族政策的?(4分)

【认知升华】

(5)结合材料并依据所学知识,谈谈你对民族团结和国家统一之间关系的认识。

(1分)

第五单元测评卷

建议时间：60分钟

满分：60分

完成时间：

得分：

第一部分(选择题 共24分)

一、选择题(本部分共12道试题,每题2分,计24分。每道题只有一个选项符合题意)

1. 坚决听党指挥,铸造绝对忠诚之师,确保陆军部队召之即来、来之能战、战之必胜。经过几十年的发展,我国陆军现代化水平已大大提高,包括 ()

①步兵 ②炮兵 ③装甲兵 ④第二炮兵 ⑤防化兵 ⑥通信兵

A. ①②③④⑤

B. ②③④⑤⑥

C. ①②③⑤⑥

D. ①②③④⑥

2. 2023年4月22日,正值中国人民解放军海军成立74周年之际,中国海军在青岛港3号码头举行舰艇开放活动。20世纪90年代以来,中国海军由哪些兵种组成?

()

①海军航空兵 ②海军陆战队 ③水面舰艇部队 ④北海舰队 ⑤潜艇部队

A. ①②③④

B. ①②④⑤

C. ①②③⑤

D. ②③④⑤

3. 火箭军,这支掌握着“大国利剑”的神秘部队从诞生伊始,就是我国大国地位的战略支撑,是维护国家安全的重要基石。它的前身是组建于1966年的某一部队。该部队的名字是 ()

A. 中国人民志愿军

B. 华东军区海军

C. 第二炮兵部队

D. 中国人民解放军陆军

4. 面对强国强军的时代要求,我国国防和军队建设不断推进。右面军队臂章的出现,说明 ()

A. 我国加强军队政治工作建设

B. 中国人民解放军调整为五大军种

C. 中国人民解放军成立五大战区

D. 我国形成军委管总、战区主战、军种主建的新格局



5. “它取得了亚洲邻国的信任,取消了缅甸、泰国等周边国家对中国这个大国的‘恐惧’心理,与新独立的亚非国家结成了战略方阵,开创了中国外交的新天地。”与上述材料有关的史实是 ()

A. 中国提出了和平共处五项原则

B. 中美两国关系开始正常化

C. 中国恢复在联合国的合法席位

D. 中日正式建立了外交关系

6. 2023年是和平共处五项原则首次提出70周年。下列有关和平共处五项原则的相关叙述,正确的是 ()

①周恩来在接见印度代表团时首次提出 ②内容包括互相尊重主权和领土完整、互不侵犯、互不干涉内政、平等互利、和平共处 ③在国际上产生了深远的影响

④成为处理国与国之间关系的唯一准则

- A. ①②③
- B. ②③④
- C. ①②④
- D. ①③④

7. 1955 年 4 月,香港《文汇报》报道了周恩来总理率团参加亚非会议的消息。在这次会议上 ()

- A. 周恩来提出了和平共处五项原则
- B. 周恩来提出“求同存异”的方针
- C. 中国恢复在联合国的合法席位
- D. 中国与美国实现了关系正常化

8. 1955 年万隆会议上,周恩来代表中国政府提出了“求同存异”的方针,得到国际社会普遍认同。这一方针体现了中国政府 ()

- A. 不以社会制度异同处理国际纠纷
- B. 主张国家不分大小一律平等
- C. 倡导世界各国避免战争,和平共处
- D. 大力支持弱小国家共同发展

9. 世界好,中国才能好。中国好,世界才更好!在 20 世纪 70 年代,中华人民共和国终于“就座了属于她的席位”,成为推动世界和平发展的主要动力。“就座了属于她的席位”指中国 ()

- A. 恢复在联合国的合法席位
- B. 加入亚太经合组织
- C. 创办上海合作组织
- D. 加入世界贸易组织

10. 1971 年,美国提出“双重代表权”方案,即同意北京和台北都在联合国拥有席位。基辛格访华时曾以此试探中国,被周恩来总理拒绝。这说明 ()

- A. 中美两国关系开始走向正常化

B. 一个中国原则是我国政府的一贯立场

C. 中国已恢复在联合国的合法席位

D. 驱逐台湾国民党当局的代表在联合国席位成为中美共识

11. (2020·宜昌中考)“美利坚合众国政府承认中华人民共和国政府是中国的唯一合法政府。美利坚合众国政府承认中国的立场,即只有一个中国,台湾是中国的一部分。”此公报宣布了 ()

- A. 基辛格访华
- B. 1949 年中苏建交
- C. 尼克松访华
- D. 1979 年中美建交

12. 近年来,中国政府率先身体力行,通过上海合作组织、“一带一路”建设和成立“亚投行”等方式在合作共赢中促进共同发展,推动人类命运共同体建设。这说明 ()

- A. 中国积极开展与周边国家的合作
- B. 中国加强与发展中国家的合作
- C. 中国正在以自己的发展惠及世界
- D. 和平与发展是当今时代的主题

第二部分(非选择题 共 36 分)

二、非选择题(共 3 道试题,计 36 分)

13. (2023·呼和浩特中考)(10 分)回顾奋斗历程,感受时代发展。

材料一 1955 年 4 月,亚非 29 个国家政府首脑在印度尼西亚万隆举行会议。周恩来率中国代表团出席,在会上鲜明提出“求同存异”的方针,呼吁各国撇开分歧,为反对殖民主义的共同利益而加强团结合作,受到了与会各国的赞同。会议最终对各项议题达成一致,形成了和平共处、友好

合作的十项原则。

——摘编自《中国共产党简史》

(1)根据材料一,回答周恩来率代表团出席会议的目的,解释上述方针中“同”和“异”的含义。(6分)

材料二 邓小平指出:世界上一系列争端都面临着用和平方式来解决还是用非和平方式来解决的问题。邓小平按照“求同存异”这种新方法的基本要求提出两种具体模式:“一国两制”和“搁置争议,共同开发”,是在当今这个充满矛盾斗争和“很多疙瘩”的世界,选择和平方式解决争议的好办法、新办法,极具中国特色。

——摘编自何成刚《历史课标解析与史料研习丛书》

(2)根据材料二并结合所学知识,回答邓小平用“好办法、新办法”取得的成果。列举当今“求同存异”原则下中国特色大国外交的事例。(4分)

14.(11分)阅读下列材料,回答问题。

材料一 中华人民共和国成立以后,奉行独立自主的和平外交政策,积极开展外交活动,取得了巨大的成就。中国政府充分展现了自己的组织能力和多边外交能力,在国际事务中的作用越来越大。

材料二 “五项原则赢世界,梅开三度谱华章。”

材料三 日本记者:有人把当前的中日关系比作第一次世界大战之前德国和英国的关系,您对此怎么看?

王毅:2014不是1914,更不是1894。与其拿一战前的德国做文章,不如以二战后的德国做榜样。只有认真清算过去,不再出尔反尔,才能走出僵局,开辟未来。只有真正坚持和平道路,不再说一套做一套,才能获得邻国和世界的信任。

(1)依据材料一指出,新中国成立后的外交政策是什么?(2分)

(2) 依据材料二和所学知识回答,20 世纪 50 年代的外交成就中后来成为处理国与国之间关系的基本准则的是什么? 这一准则由哪一位中国领导人和缅甸、印度总理共同倡导? (2 分)

(3) “梅开三度”是指 20 世纪 70 年代新中国取得的外交成就,其中最早的一项是什么? 再写出其他两项中的任意一项。
(4 分)

(4) 材料三中“2014 不是 1914,更不是 1894”中的“1894”指的是什么历史事件? 该事件对中国产生了怎样的影响? (2 分)

(5) 从近代历史上的中国外交和新中国成立后我国外交的变化中,你认识到了什么? (1 分)

15. (15 分)外交,就是处理国与国之间关系的政治活动。近现代中国的外交与世界局势的发展密切相关。阅读下列材料,回答问题。

材料一 中国的反动分子在外交上一贯是神经衰弱怕帝国主义的。清朝的西太后,北洋政府的袁世凯……哪一个不是跪倒在地上办外交呢?中国一百年来的外交史是一部屈辱的外交史。我们不学他们。我们不要被动、怯懦,而要认清帝国主义的本质,要有独立的精神,要争取主动,没有畏惧,要有信心。

——周恩来《新中国的外交》(1949 年 11 月)

材料二 北洋政府为解决山东问题的系列外交活动

年份	外交大事
1917 年	中国对德宣战,为收回利权积极参与巴黎和会
1918 年	为能参与巴黎和会争取主动,中国倾向联美制日
1919 年	参加巴黎和会,中国收回利权的要求遭到拒绝

材料三 1972 年 2 月,尼克松乘坐的飞机缓缓降落在中国北京的机场。尼克松走下舷梯,离地面还有三四级台阶时,就向前来迎接的周恩来伸出手。两位领导人紧紧握手达一分钟之久,周恩来诚恳地说:“总统先生,你把手伸过了世界最辽阔的海洋和我握手,25 年没有交往了。”

——《政治文明历程》

材料四 要推动教育合作,扩大互派留学生规模,提升合作办学水平。要发挥智库作用,建设好智库联盟和合作网络。在文化、体育、卫生领域,要创新合作模式,

推动务实项目。要用好历史文化遗产,联合打造具有丝绸之路特色的旅游产品和遗产保护。

——习近平在“一带一路”国际合作高峰论坛开幕式上的演讲(2017 年 5 月 14 日)

(1)根据材料一并结合所学知识指出,近代中国“跪倒在地上办外交”的首次表现是什么?它对中国产生了什么影响?(2 分)

(2)根据材料二并结合所学知识回答,“中国收回利权的要求遭到拒绝”在中国引起了什么历史事件?(2 分)

(3) 根据材料三并结合所学知识,列举 20 世纪 50—70 年代,我国在外交方面取得的重大成就。(6 分)

(4) 根据材料四并联系现实回答,推进“一带一路”建设将会给我们的生活带来怎样的变化。(3 分)

(5) 根据上述材料并结合所学知识,分析新中国在外交方面与近代中国相比,有何重大变化。(2 分)

第六单元测评卷

建议时间：60分钟

满分：60分

完成时间：

得分：

第一部分(选择题 共24分)

一、选择题(本部分共12道试题,每题2分,计24分。每道题只有一个选项符合题意)

1. (2020·广东中考改编)1964年10月17日《光明日报》社论指出:“中国发展核武器,不是由于中国相信核武器的万能,要使用核武器。恰恰相反,中国发展核武器,正是为了打破核大国的核垄断,要消灭核武器。”该社论评述的是中国 ()

- A. 第一颗原子弹爆炸成功
- B. 第一颗氢弹爆炸成功
- C. 神舟一号无人飞船升空
- D. 第一颗人造地球卫星发射成功

2. 努力攀登空间科学高峰是我国科学家的毕生追求。1970年,我国成功发射的第一颗人造地球卫星是 ()

- A. 东方红一号
- B. 神舟一号
- C. 嫦娥一号
- D. 神舟十二号

3. 邓小平认为:“这些东西(原子弹、氢弹等)反映一个民族的能力,也是一个民族、一个国家兴旺发达的标志。”为“这些东西”作出贡献的科学家代表是 ()

- A. 屠呦呦
- B. 袁隆平
- C. 邓稼先

D. 王进喜

4. 某科幻电影呈现了航天员升入太空从事科研的场景,涉及载人航天技术。下列各项成就与这一技术密切相关的是 ()

- A. 中国制成第一架喷气式飞机
- B. 第一颗氢弹爆炸成功
- C. 东方红一号成功发射
- D. 神舟十二号载人飞船发射升空

5. 我国是一个幅员辽阔、人口众多的国家。为解决我国这样一个人口大国的吃饭问题和保障我国粮食安全,作出巨大贡献的是 ()

- A. 袁隆平
- B. 邓稼先
- C. 屠呦呦
- D. 钱学森

6. 在2018年12月18日举行的庆祝改革开放40周年大会上,屠呦呦被授予100名“改革先锋”之一。这源于她在哪一领域的突出贡献? ()

- A. 农业科技
- B. 航天科技
- C. 文艺创作
- D. 医疗卫生

7. 中华人民共和国成立以来,中国文化建设在探索中前进,在曲折中发展。坚持“为人民服务、为社会主义服务”的方向和“□□□□”“□□□□”的方针,大力传承中华优秀传统文化,积极吸收世界

优秀文化成果,取得了令世人瞩目的成就。

“□□□□”“□□□□”应是 ()

- A. 百花齐放 百家争鸣
- B. 自由民主 平等博爱
- C. 实业救国 振兴中华
- D. 解放思想 实事求是

8. 当时,人们买衣服要凭布票,且数量有限,色彩和样式也很单调。大家都穿着千篇一律的灰色中山装或蓝色解放装,被形容为“蓝(灰)色的海洋”。这种现象普遍存在于我国 ()

- A. 人民解放战争时期
- B. 改革开放前
- C. 20 世纪末
- D. 21 世纪初

9. 粮票、布票等是长辈们曾使用过的购物票证,当时发行这些票证最主要的原因是 ()

- A. 当时商品严重匮乏
- B. 当时享受高福利
- C. 票证代替人民币
- D. 票证使用起来很方便

10. 1987 年 11 月 12 日,美国快餐业巨头肯德基在中国内地的第一家餐厅在北京前门正式开业,这也是第一家进入中国的外国快餐店。这主要得益于 ()

- A. 中国实行改革开放
- B. 中国恢复在联合国的合法席位
- C. 中美关系的正常化
- D. 世界多极化潮流的大力推动

11. 下列关于新中国成立以后我国交通领域的重要成就,表述错误的是 ()

- A. 截至 2010 年底,我国铁路营业里程居世界第一位
- B. 高速公路里程已居世界前列
- C. 1997 年以来全国铁路实现了几次大提速
- D. 我国已成为世界民航大国

12. 改革开放后,我国在通信方面取得的成就有 ()

①我国的电信网络规模 and 用户数均居全球第一 ②固定电话早已进入千家万户 ③中国网民规模不断扩大 ④发电子邮件是人们传递信息的唯一方式

- A. ①②③
- B. ①②④
- C. ②③④
- D. ①③④

第二部分(非选择题 共 36 分)

二、非选择题(共 3 道试题,计 36 分)

13. (2023·荆州中考改编)(10 分)阅读材料,完成下列要求。

材料一 “两弹一星”的成功,是在党和国家领导下,以钱学森、邓稼先为代表的一大批中国科学家自力更生,克服重重困难取得的伟大成就,极大地鼓舞了中国人民的士气,振奋了中华民族精神。……20 世纪 60 年代,中国药学家屠呦呦领导科研团队,从中医药古典文献中获得灵感,在极为艰苦的科研条件下,经过了数百次实验,终于在 70 年代初发现了能够有效抵御疟疾的青蒿素。

——摘编自《义务教育教科书 中国历史

八年级 下册》

材料二 新中国成立以来劳模评选标准:1950年至1976年,受表彰的先进对象来自工、农、教、文、卫、体等各条战线,如“铁人”王进喜等。1977年至1988年,“先进”即各条战线的劳动模范和先进集体。袁隆平等知识分子和科研工作者成为劳动模范队伍中的新成员。1989年至今,将“对社会有突出贡献”作为劳模评选的重要条件,并且在评价指标中增加了敬业精神和创新精神和职业道德等要素。个体经营者、私营企业主等均可参加全国劳模评选。

——整理自《人民日报》刊登的《劳模
评选制度如何形成》

(1)根据材料一,分析我国科技取得巨大成就的原因有哪些?(4分)

(2)根据材料二,概括不同时期“劳模评选”标准有何共同点?(4分)

(3)综合上述材料并结合所学知识,谈谈如何实现中华民族的伟大复兴?(2分)

14. (11分)照片是一定历史时空下的真实记录。观察下列图片,回答问题。



模特时装表演



居民住宅小区



高速公路网

(1)根据上述三幅图片,结合自己的实际生活体会,谈谈改革开放以来我国人民在衣、食、住、行方面发生的变化。(6分)

(2)我国人民在衣、食、住、行方面发生这种变化的主要原因是什么?(2分)

(3)有人说现在生活水平提高了,我们可以丢掉诸如“新三年,旧三年,缝缝补补又三年”的老传统了。这样的说法正确吗?为什么?(3分)

15. (15分)阅读下列材料,回答问题。

材料一 1964年10月16日,我国成功爆炸第一颗原子弹,“东方巨响”震惊了世界。这一成就集中代表我国科学技术当时所能达到的新水平,有力地打破了当时有核大国的核垄断和核讹诈,提高了我国

的国际地位。

材料二 21时48分,星箭分离,卫星入轨。21时50分,国家广播事业局报告,收到中国第一颗人造地球卫星播送的《东方红》乐曲,声音清晰嘹亮。

材料三 中国人实现了漫步太空的梦想,宇航员的一小步,却是中华民族的一大步。

材料四



图一



图二

材料五 原子能工业是在苏联单方面终止合同、撤走专家的情况下,自力更生发展起来的。在核原料生产方面,中国科技人员和工人克服了难以想象的困难,先后建成了衡阳铀水冶厂和兰州气体扩散厂,解决了浓缩铀的核心制造工艺,确保了原子弹的试验成功。

当中国工人阶级和科学技术人员创造出这一伟大业绩的时候,他们的工作环境、生活条件极端困难。自然灾害和严重的经

济困难,使人们的物质生活下降到最低点。为在 1965 年以前偿还苏联 14 亿新卢布以上的债务,所有中国人都勒紧裤带。西方大国对中国的经济封锁、战争威胁和军事压力,不但基本断绝了国家最需要的先进设备和技术交换,而且也促使我国必须作好应对外敌的准备。中国人民就是在这种恶劣环境下,默默地创造着奇迹。

——以上材料均摘编自《中国共产党历史》

(1)依据材料一,指出“东方巨响”在当时对中国国际地位的影响。(2 分)

(2)材料二、三说明了什么问题?

(2 分)

(3)材料四中图一、图二人物各是哪位科学家?他们各有什么贡献?(8 分)

(4)综合上述材料,探究我国从“东方巨响”中得到的经验。(3 分)